


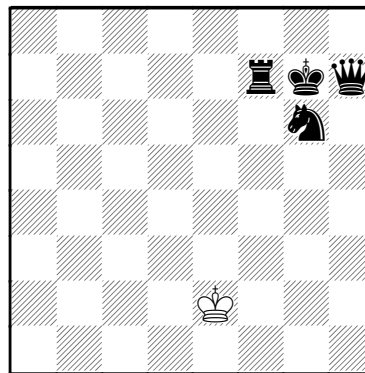
TESTS PION - 1



1- Cette position n'est pas correcte. Pourquoi ?

.....


 (2 points)



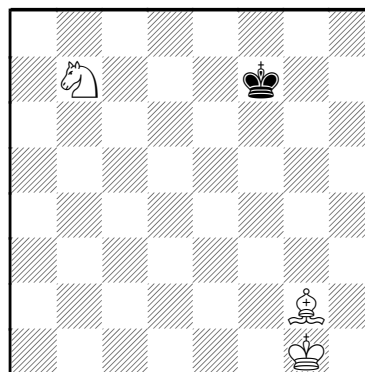
2- Cette position n'est pas correcte. Pourquoi ?

.....

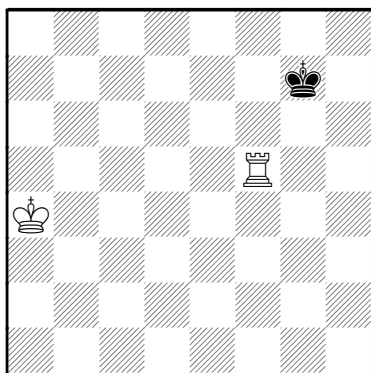
 (2 points)



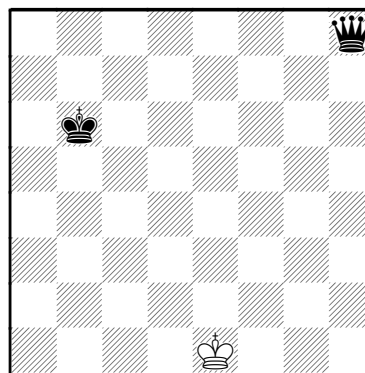
3- Coloriez la case où peut aller, en 1 coup, le pion.
 (2 points)



4- Coloriez les cases où peut aller, en 1 coup, le Cavalier.
 (2 points)




5- Coloriez les cases où peut aller, en 1 coup, le Roi blanc. (2 points)

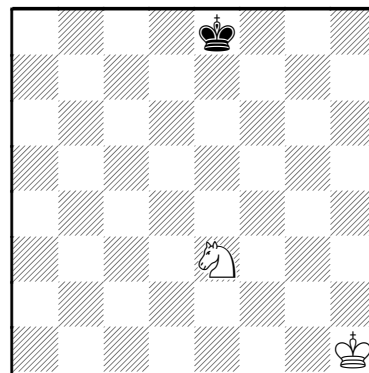


6- Coloriez les cases où peut aller, en 1 coup, la Dame. (2 points)


TESTS PION - 2




7- Indiquez par des flèches tous les coups que peuvent jouer les Noirs. (1 point)
 Nombre de coups possibles coups (1 point)



8- Indiquez par des flèches tous les coups que peuvent jouer les Blancs. (1 point)
 Nombre de coups possibles coups (1 point)



9- Coloriez la rosace du Cavalier. (2 points)



10- Quelles pièces sont les mieux placées ?
 Le Fou des Blancs Le Fou des Noirs (1 point)
 Le Cavalier blanc Le Cavalier noir (1 point)

COMMENT OBTENIR VOS DIPLOMES – BILAN « TESTS PION » ?

Les diplômes « pion » s'obtiennent chacun à partir d'une note égale ou supérieure à 15/20 aux tests.

Nom de l'élève Prénom

Date de naissance Enseignant

Etablissement scolaire ou club

Note obtenue aux tests-pion /20 est déclaré(e) reçu(e) aux tests **PION** OUI NON

Date Signature ou cachet obligatoire de l'enseignant :